

**Concursul Național Studențesc de Matematică
 "Traian Lalescu"
 Ediția a IX-a, Sibiu, 19-21 mai 2016**

Soluții și barem de corectare la secțiunea A

1. Găsiți numerele întregi x cu proprietatea că $x^{2016} + x^{2015} + \dots + x + 1$ se divide prin 2017.

Soluție:

Pentru orice număr prim p , scriind în $\mathbb{Z}_p[X]$, avem:

$$(X^{p-1} + X^{p-2} + \dots + X + 1)(X - 1) = X^p - 1 = (X - 1)^p, \dots \dots \dots (3p)$$

astfel că

$$X^{p-1} + X^{p-2} + \dots + X + 1 = (X - 1)^{p-1} \dots \dots \dots (1p)$$

Așadar, polinomul $X^{p-1} + X^{p-2} + \dots + X + 1 \in \mathbb{Z}_p[X]$ are doar rădăcina 1..... (2p),
 deci congruența $x^{p-1} + x^{p-2} + \dots + x + 1 \equiv 0 \pmod{p}$ are unica soluție $x \equiv 1 \pmod{p}$. (1p).
 Prin urmare, numerele întregi x pentru care p divide $x^{p-1} + x^{p-2} + \dots + x + 1$ sunt exact
 numerele de forma $\mathcal{M}p + 1$ (1p).
 Cum 2017 este un număr prim, numerele cerute sunt cele din mulțimea $2017\mathbb{Z} + 1$ (2p).

2. Calculați

$$\lim_{h \searrow 0} \sum_{n=1}^{\infty} \frac{h}{1 + n^2 h^2}.$$

Soluție:

Pentru orice $n \in \mathbb{N}^*$ și $h > 0$ au loc inegalitățile

$$\frac{h}{1 + (n+1)^2 h^2} < \int_n^{n+1} \frac{h}{1 + x^2 h^2} dx < \frac{1}{1 + n^2 h^2}, \dots \dots \dots (2p)$$

astfel că

$$\sum_{n=1}^{\infty} \frac{1}{1 + n^2 h^2} - \frac{h}{1 + h^2} < \int_1^{\infty} \frac{h}{1 + x^2 h^2} dx < \sum_{n=1}^{\infty} \frac{1}{1 + n^2 h^2} \dots \dots \dots (2p)$$

Cum

$$\int_1^{\infty} \frac{h}{1 + x^2 h^2} dx = \arctan(xh) \Big|_1^{\infty} = \frac{\pi}{2} - \arctan(h), \dots \dots \dots (2p)$$

rezultă că

$$\frac{\pi}{2} - \arctan(h) < \sum_{n=1}^{\infty} \frac{1}{1 + n^2 h^2} < \frac{\pi}{2} - \arctan(h) + \frac{h}{1 + h^2} \dots \dots \dots (3p)$$

Trecând la limită pentru $h \searrow 0$, obținem că

$$\lim_{h \searrow 0} \sum_{n=1}^{\infty} \frac{h}{1+n^2h^2} = \frac{\pi}{2} \dots \dots \dots (1p)$$

3. Considerăm subcorpul $K = \{a + bi + cj + dk \mid a, b, c, d \in \mathbb{Q}\}$ al corpului cuaternionilor. Arătați că:

- a) Ordinul oricărui subgrup finit al lui $(K \setminus \{0\}, \cdot)$ este de forma $2^\alpha \cdot 3^\beta$, cu $\alpha, \beta \in \mathbb{N}$.
- b) Orice subgrup comutativ finit al lui $(K \setminus \{0\}, \cdot)$ are ordin 1, 2, 3, 4 sau 6.

Soluție:

Începem cu câteva observații calculatorii:

Dacă considerăm elementele $x = a + bi + cj + dk$ și $x' = a' + b'i = c'j + d'k$ ale lui K , avem

$$xx' = aa' - bb' - cc' - dd' + (ab' + ba' + cd' - dc')i + (ac' - bd' + ca' + db')j + (ad' + bc' - cb' + da')k.$$

Notând $\bar{x} = a - bi - cj - dk$, obținem $x\bar{x} = a^2 + b^2 + c^2 + d^2 \in \mathbb{Q} \dots \dots \dots (0,5p)$.

Notând $E = bi + cj + dk$ (și $E' = b'i + c'j + d'k$), avem pe de o parte

$$x^2 = a^2 - b^2 - c^2 - d^2 + 2aE = 2ax - x\bar{x}, (0, 5p)$$

iar pe de altă parte x și x' comută dacă și numai dacă E și E' sunt \mathbb{Q} -liniar dependente (0,5p).

a) Fie H un subgrup finit al grupului multiplicativ $G = K \setminus \{0\}$ și p un divizor prim al ordinului lui H . Conform teoremei lui Cauchy, există un element $x \in H$ de ordin p . Cum $x^p = 1 \neq x$, rezultă că x , ca element al subcorpului comutativ $L = \{a + bx \mid a, b \in \mathbb{Q}\}$, este rădăcină a polinomului ireductibil $f = X^{p-1} + X^{p-2} + \dots + X + 1 \in \mathbb{Q}[X] \dots \dots \dots (0,5p)$.

Pe de altă parte, cu notațiile folosite mai sus, $x^2 - 2ax + x\bar{x} = 0$, astfel că x este rădăcină a polinomului $g = X^2 - 2aX + x\bar{x} \in \mathbb{Q}[X]$. Cum f este ireductibil, rezultă că $f|g \dots (0,5p)$, de unde obținem că $p = 1 + \text{grad}(f) \leq 1 + \text{grad}(g) = 3 \dots \dots \dots (0,5p)$.

Prin urmare $|H|$ este de forma $2^\alpha \cdot 3^\beta$, cu $\alpha, \beta \in \mathbb{N}$.

b) Considerăm un element $x \in G$ de ordin finit n . Cu aceeași notație $x = a + E$, folosită mai sus, avem că

$$x^n = (a + E)^n = \sum_{0 \leq 2k \leq n} C_n^{2k} a^{n-2k} E^{2k} + \left(\sum_{0 \leq 2k+1 \leq n} C_n^{2k+1} a^{n-2k-1} E^{2k} \right) \cdot E.$$

Notând $T = \sqrt{b^2 + c^2 + d^2}$, avem că $E^2 = -T^2$, deci

$$\begin{aligned} x^n &= \sum_{0 \leq 2k \leq n} C_n^{2k} a^{n-2k} (-T^2)^k + \left(\sum_{0 \leq 2k+1 \leq n} C_n^{2k+1} a^{n-2k-1} (-T^2)^k \right) \cdot E = \\ &= \sum_{0 \leq 2k \leq n} C_n^{2k} a^{n-2k} (iT)^{2k} + \left(\sum_{0 \leq 2k+1 \leq n} C_n^{2k+1} a^{n-2k-1} (iT)^{2k} \right) \cdot E = \\ &= \frac{(a + iT)^n + (a - iT)^n}{2} + \frac{(a + iT)^n - (a - iT)^n}{2} \cdot E. \dots \dots \dots (2p) \end{aligned}$$

Prin urmare, condiția $x^n = 1$ este echivalentă cu

$$\begin{cases} (a + iT)^n = (a - iT)^n \\ (a + iT)^n + (a - iT)^n = 2, \end{cases}$$

adică cu $(a + iT)^n = (a - iT)^n = 1$. Cum ordinul lui x este n , există $k \in \{1, 2, \dots, n-1\}$, prim cu n , astfel încât $a = \cos \frac{2k\pi}{n}$ și $T = \sin \frac{2k\pi}{n}$ **(1p)**.

Deoarece $a \in \mathbb{Q}$, rezultă că $a \in \{-1, \frac{1}{2}, 0, \frac{1}{2}, 1\}$ **(1p)**.

Considerăm acum un subgrup comutativ H al lui G .

Dacă $H = \{1\}$, atunci $|H| = 1$, iar dacă $H = \{-1, 1\}$, atunci $|H| = 2$.

Dacă $H \not\subseteq \{-1, 1\}$, fie $x = a + E \in H \setminus \{-1, 1\}$ și $x' = a' + E' \in H$. Deoarece x și x' comută, există $\lambda \in \mathbb{Q}$ cu $E' = \lambda \cdot E$ sau există $\lambda' \in \mathbb{Q}$ cu $E = \lambda' \cdot E'$.

(I) Dacă $a = a' = 0$, atunci $T^2 = T'^2 = 1$, deci $E^2 = E'^2 = -1$. Dacă $E' = \lambda \cdot E$, atunci $-1 = E'^2 = \lambda^2 E^2 = -\lambda^2$, astfel că $\lambda = \pm 1$ și $x' = \pm x$. Cazul $E = \lambda' \cdot E'$ conduce similar la aceeași concluzie. Cum $x^2 = E^2 = -1$, avem că $x^3 = -x$, astfel că $x' \in \langle x \rangle$. Atunci $H = \langle x \rangle$ și obținem că $|H| = 4$ **(0,5p)**.

(II) Dacă $a = 0$ și $a' = \pm \frac{1}{2}$, atunci $T^2 = 1$, $T'^2 = \frac{3}{4}$, $E^2 = -1$ și $E'^2 = -\frac{3}{4}$. Ca mai sus obținem că $\lambda^2 = \frac{3}{4}$ sau $\lambda'^2 = \frac{4}{3}$. Acestea nu sunt însă pătratele unor numere raționale, contradicție **(0,5p)**.

(III) Dacă $a = 0$ și $a' = \pm 1$, atunci $T^2 = 1$, $T'^2 = 0$, $E^2 = -1$, $E'^2 = 0$, deci $x' = \pm 1$. Cum $x^2 = -1$ și $x^4 = 1$, rezultă că $x' \in \langle x \rangle$. Obținem ca la (I) că $H = \langle x \rangle$ și $|H| = 4$ **(0,5p)**.

(IV) Dacă $a = \pm \frac{1}{2}$ și $a' = \pm \frac{1}{2}$, atunci $T^2 = T'^2 = \frac{3}{4}$, $E^2 = E'^2 = -\frac{3}{4}$ și dacă $E' = \lambda \cdot E$ sau $E = \lambda' \cdot E'$, obținem $\lambda = \pm 1$ (sau $\lambda' = \pm 1$) și $x' \in \{x, -x, \bar{x}, -\bar{x}\}$. Din $x = \pm \frac{1}{2} + E$, avem atunci $x^2 = -\frac{1}{2} \pm E = \mp \bar{x}$ și $x^3 = \pm 1$.

Dacă $x^3 = -1$, atunci $x^4 = -x$, $x^5 = -x^2$, $x^6 = 1$.

Obținem că $H = \langle x \rangle$ sau $H = \langle x, -x \rangle$ și $|H| \in \{3, 6\}$ **(0,5p)**.

(V) Dacă $a = \pm \frac{1}{2}$ și $a' = \pm 1$, atunci $T^2 = \frac{3}{4}$, $T'^2 = 0$, $E^2 = -\frac{3}{4}$, $E'^2 = 0$. Rezultă că $x' = \pm 1$ și obținem ca la (IV) că $|H| \in \{3, 6\}$ **(0,5p)**.

(VI) Dacă $a = \pm 1$ și $a' = \pm 1$, atunci $H \subseteq \{-1, 1\}$ și $|H| \in \{1, 2\}$ **(0,5p)**.

Celelalte cazuri se pot obține din cele de mai sus interschimbând valorile a și a' .

4. Considerăm șirul de discuri $(D_n)_{n \in \mathbb{N}^*}$, discul D_n având raza $\frac{1}{n}$. Determinați latura minimă a unui pătrat în care pot fi amplasate fără suprapuneri toate discurile D_n , $n \in \mathbb{N}^*$.

Soluție:

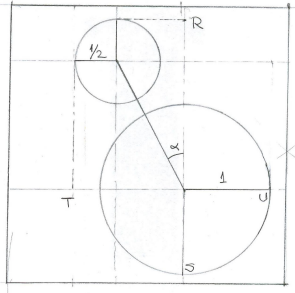


FIGURA 1

Remarcăm pentru început că dacă D_1 și D_2 se află în interiorul unui pătrat de latură L , iar linia centrelor face un unghi α cu una din laturi, atunci, conform Figurii 1, $L \geq RS \geq \frac{3}{2}(1 + \cos \alpha)$ și $L \geq TU \geq \frac{3}{2}(1 + \sin \alpha)$, deci

$$L \geq \frac{3}{2}(1 + \max\{\sin \alpha, \cos \alpha\}) \geq \frac{3}{2} \left(1 + \frac{\sqrt{2}}{2}\right) = \frac{3(2 + \sqrt{2})}{4}$$

(această valoare putând fi atinsă doar pentru $\alpha = 45^\circ$). Vom arăta că aceasta e valoarea minimă cerută **(3p)**,

scop în care dispunem discurile într-un pătrat de latură $l = \frac{3(2+\sqrt{2})}{4}$ ca în Figura 2.

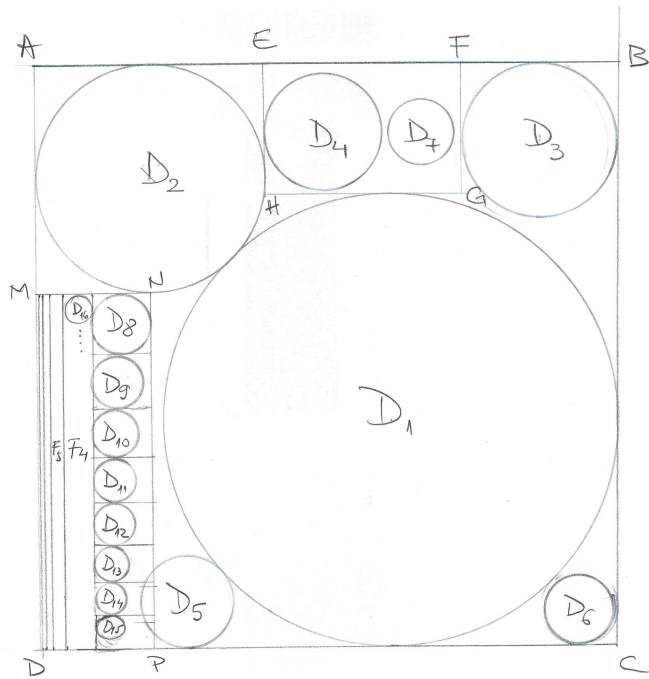
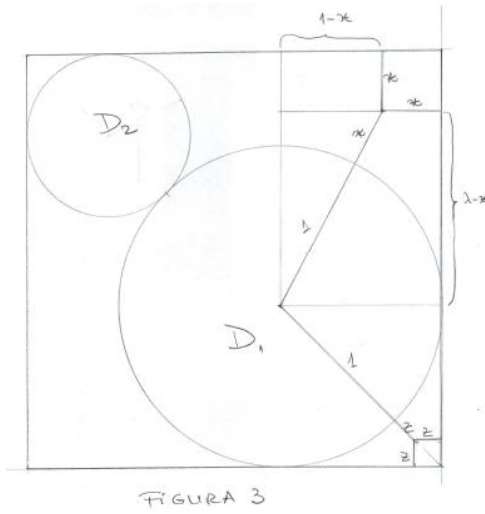


FIGURA 2

Pentru a valida această configurație, avem de probat următoarele afirmații:

- 1) Că D_3 „încap” în colțul din „dreapta-sus” (1p)
- 2) Că D_6 „încap” în colțul din „dreapta-jos” (1p)
- 3) Că între D_2 , D_1 , AD și CD „încap” un dreptunghi $MNPD$ de laturi $\frac{1}{2}$ și $l - 1$ (1p).
- 4) Că D_4 și D_7 „încap” între D_2 , D_1 , D_3 și AB (1p)
- 5) Că D_8 , D_9 , ... „încap” în $\text{Int}MNPD \setminus D_5$, unde $MNPD$ e dreptunghiul de la punctul 3) (3p)

Abordăm pe rând aceste cazuri:



1) Notăm $\lambda = l - 1$; cu notațiile din Figura 3 avem:

$$(1 + x)^2 = (1 - x)^2 + (\lambda - x)^2, \text{ adică}$$

$$2x + x^2 = -2x + x^2 + (\lambda - x)^2, \text{ sau}$$

$$(\lambda - x)^2 - 4x = 0. \quad (1)$$

Noi dorim să arătăm că $x \geq \frac{1}{3}$; ținând cont de faptul că ecuația (1) are produsul rădăcinilor egal cu $\lambda^2 > 1$, x , care este subunitar, trebuie să fie rădăcina „mică” a respectivei ecuații. Este deci suficient pentru a găsi $x \geq \frac{1}{3}$ să dovedim că $(\lambda - \frac{1}{3})^2 - \frac{4}{3} > 0$, adică $\frac{2+3\sqrt{2}}{4} - \frac{1}{3} > \frac{2}{\sqrt{3}}$, sau, altfel scris, $8\sqrt{3} - 9\sqrt{2} < 2$.

Această ultimă relație este însă adevărată întrucât $8\sqrt{3} - 9\sqrt{2} < 8 \cdot 1,8 - 9 \cdot 1,4 = 14,4 - 12,6 < 2$, deci afirmația 1) este justificată.

2) Tot pe Figura 3 vedem că $1 + z + z\sqrt{2} = \sqrt{2}$, de unde $z = \frac{\sqrt{2}-1}{\sqrt{2}+1} = 3 - 2\sqrt{2} > 3 - 2 \cdot 1,415 = 0,17 > \frac{1}{6}$.

3) Avem $l - 2 = \frac{3\sqrt{2}-2}{4} > \frac{3 \cdot 1,4 - 2}{4} > \frac{1}{2}$; afirmația referitoare la lungimea lui $MNPD$ este imediată.

4) Avem $2 \left(\frac{1}{2} + \frac{1}{3} + \frac{1}{4} + \frac{1}{7} \right) = 2 \left(\frac{3}{4} + \frac{10}{21} \right) < \frac{5}{2}$.

Pe de altă parte, $l = \frac{3(2+\sqrt{2})}{4} > \frac{3 \cdot 3,4}{4} = \frac{5,1}{2}$.

Prin urmare, $2 \left(\frac{1}{2} + \frac{1}{3} + \frac{1}{4} + \frac{1}{7} \right) < l$. Consecutiv, dreptunghiul $EFGH$ din Figura 2 are lungimea mai mare decât $2 \left(\frac{1}{4} + \frac{1}{7} \right)$ și (conform cazului 3)) lățimea mai mare decât $\frac{1}{2}$, deci D_4 și D_7 „încap” în el.

5) Divizăm $MNPD$ în fâșii verticale, notate de la dreapta la stânga $\mathcal{F}_3, \mathcal{F}_4, \dots$ și astfel încât \mathcal{F}_k să aibă lățimea $\frac{1}{2^{k-1}}$ (a se vedea, din nou, Figura 2). Fie funcția $f : \mathbb{N}^* \rightarrow \mathbb{R}$, $f(n) = \frac{1}{n} + \frac{1}{n+1} + \dots + \frac{1}{2n-1}$ și $n \in \mathbb{N}^*$.

Avem $f(n+1) - f(n) = \frac{1}{2n} + \frac{1}{2n-1} - \frac{1}{n} < 0$, deci f e strict descrescătoare. Prin urmare,

$f(2^k) \leq f(8)$ pentru orice $k \geq 3$. Consecutiv, pentru orice $k \geq 3$ avem $f(2^k) \leq f(8) = \sum_{j=8}^{15} \frac{1}{j} <$

$0,728$. Prin urmare, suma diametrelor discurilor $D_{2^k}, D_{2^{k+1}}, \dots, D_{2^{k+1}-1}$ este mai mică decât $1,456$, ceea ce arată că putem amplasa toate aceste discuri în \mathcal{F}_k . Pentru a gestiona ulterior

interacțiunea cu D_5 , vom pune aceste discuri astfel încât razele să descrească „de sus în jos”, ele să fie tangente la latura din stânga a fâșiei, și alocând fiecărui D_n o porțiune de înălțime $\frac{2}{n}$ a fâșiei corespunzătoare.

Discul D_5 din Figura 2 are o porțiune comună cu $MNPD$. Aceasta nu va constitui însă o problemă dacă vom arăta că D_5 , fiind tangent la D_1 și DC , nu poate să intersecteze niciunul din discurile D_8, D_9, \dots, D_{15} dispuse în \mathcal{F}_3 conform ideilor de mai sus.

Întrucât $\frac{1}{13} + \frac{1}{14} + \frac{1}{15} > \frac{1}{5}$, discurile D_8, \dots, D_{12} se găsesc în întregime deasupra tangentei orizontale la D_5 , diferită de DC .

Prin urmare, este suficient să arătăm că distanța d dintre AD și tangenta verticală la D_5 care nu taie D_1 este mai mare decât $\frac{1}{4} + \frac{2}{13}$.

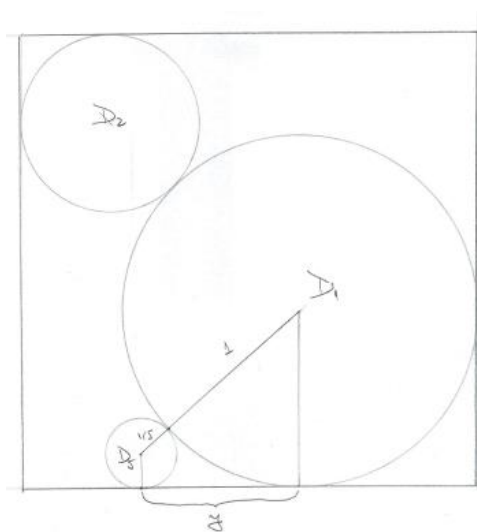


FIGURA 4

Dar, cu notațiile din Figura 4, $y^2 = \left(\frac{6}{5}\right)^2 - \left(\frac{4}{5}\right)^2 = \frac{4}{5}$, deci $y = \frac{2\sqrt{5}}{5}$. Prin urmare, $d = l - \frac{6+2\sqrt{5}}{5}$, iar

$$d - \frac{1}{4} = \frac{1 + 15\sqrt{2} - 8\sqrt{5}}{20} > \frac{4,314}{20} > \frac{2}{9} > \frac{2}{13}. \quad \square$$